


なまえ


- ① いちごが、8こあります。めろんが、5こあります。
どちらが なんこ おおいですか。



しき

こたえ _____ が _____ こおい


- ② りんごが、7こあります。みかんが、3こあります。
どちらが なんこ おおいですか。



しき

こたえ _____ が _____ こおい

- ③ かきが、9こあります。なしが、12こあります。
どちらが なんこ おおいですか。



しき

こたえ _____ が _____ こおい

なまえ _____

- ① いちごを、9こもらいました。5こたべました。
のこりはなんこですか。



しき _____

こたえ _____

こ _____

- ② りんごを、10こもらいました。3こたべました。
のこりはなんこですか。




しき _____

こたえ _____

こ _____

- ③ かきを、12こもらいました。6こたべました。
のこりはなんこですか。



しき _____

こたえ _____

こ _____

なまえ _____

- ① いちごを、9こもらいました。いもうとに4こあげました。
のこりはなんこですか。



しき _____

こたえ _____

こ _____

- ② りんごを、10こもらいました。5こあげました。
のこりはなんこですか。




しき _____

こたえ _____

こ _____

- ③ かきを、15こもらいました。6こあげました。
のこりはなんこですか。




しき _____

こたえ _____

こ _____

なまえ _____


- ① いちごが、6こあります。めろんが、8こあります。
ちがいはいくつですか。



しき _____

こたえ _____


- ② りんごが、5こあります。みかんが、3こあります。
ちがいはいくつですか。



しき _____

こたえ _____

- ③ かきが、7こあります。なしが、11こあります。
ちがいはいくつですか。




しき _____

こたえ _____

なまえ _____


- ① ちゅうしゃじょうにくるまが10だいとまっていたいました。4だいでていきました。のこっているくるまはなんだいでしょう。



しき _____

こたえ _____


- ② ちゅうしゃじょうにくるまが12だいとまっていたいました。7だいでていきました。のこっているくるまはなんだいでしょう。



しき _____

こたえ _____

- ③ ちゅうしゃじょうにくるまが9だいとまっていたいました。7だいでていきました。のこっているくるまはなんだいでしょう。



しき _____

こたえ _____