


なまえ



1




の8さら分は 何こですか。

しき

こたえ

2

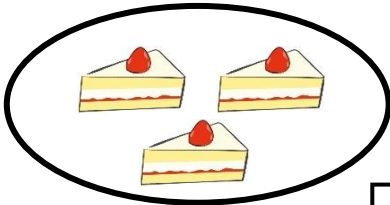


の3パック分は何こですか。

しき

こたえ

3

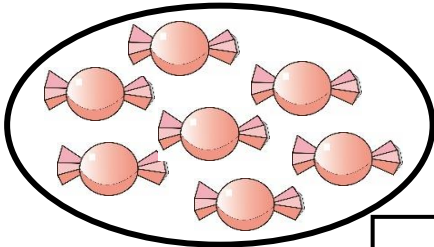


の7さら分は 何こですか。

しき

こたえ

4

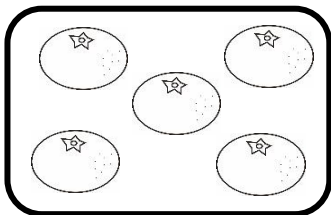


の8ばいは 何こですか。

しき

こたえ

5



の4ばいは 何こですか。


しき

こたえ

なまえ



1




の5パック分は何こですか。

しき

こたえ

2

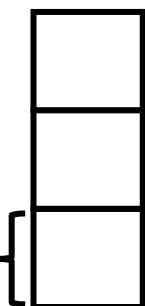


の4つ分は 何びきですか。

しき

こたえ

3



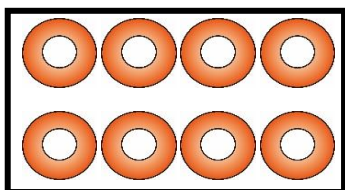
おなじ大きさの つみ木 3つ分の
たかさは 何cmですか。

6cm

しき

こたえ

4

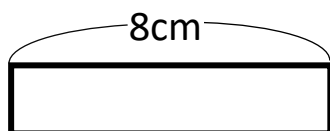


の2ばいは 何こですか。

しき

こたえ

5




の7ばいの 長さは 何cm
ですか。

しき

こたえ

なまえ



- 1 1ふくろに みかんが 5こずつ はいって
います。6ふくろでは 何こになりますか。

しき

こたえ

- 2 りんごを 1人に 3こずつ くばります。
7人にくばると 何こ いらいますか。



1人3こ

しき

こたえ

- 3 1はこに ドーナツが 8こずつ はいって
います。4はこでは 何こになりますか。

しき

こたえ

- 4 1チーム 4人で リレーを します。
6チームでは みんなで 何人 いますか。

しき


こたえ

1チーム 4人



なまえ

- 1 やきいもがが 1さらに 3こずつ のって
います。9さらでは 何こになりますか。



しき

こたえ

- 2 長いすが 5つあります。1つの いすに
4人ずつすわると みんなで 何人すわれ
ますが。

しき

こたえ

- 3 マメの はいったびんが 9こあります。1つの
びんに マメが7こずつ はいっています。
マメは ぜんぶで 何こに になりますか。



しき

こたえ

- 4 チョコレートの はこが 7はこあります。1はこに
6こずつ はいっています。チョコレートは ぜん
ぶで 何こに になりますか。

しき

こたえ