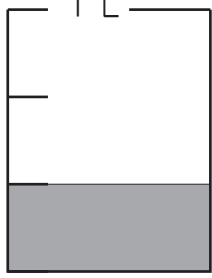
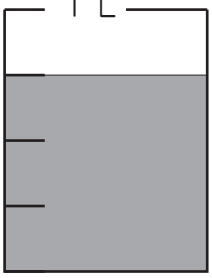
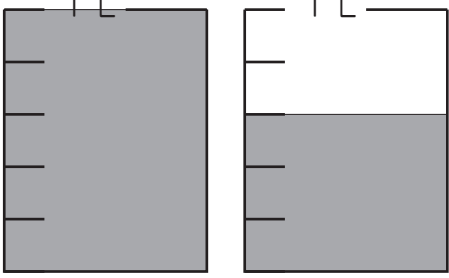


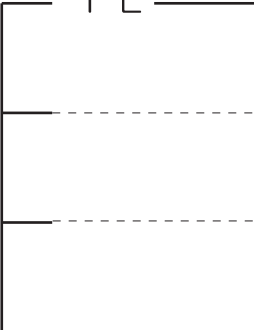
1. 水のかさは何Lですか。分数で表しましょう。  
 1Lより大きい分数は、仮分数と帯分数の両方で表しましょう。


①  ( ) L

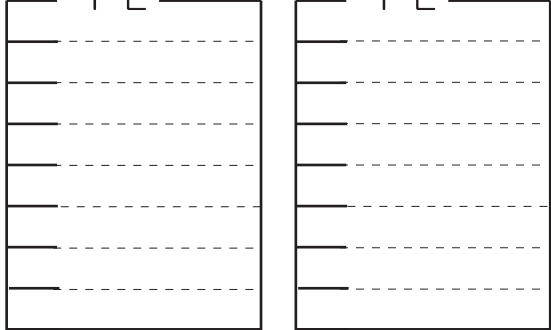
②  ( ) L

③  仮分数 ( ) L  
 帯分数 ( ) L


2. 分数で表した水のかさの分だけ色をぬりましょう。

①  $\frac{1}{3}$  L 

②  $\frac{5}{7}$  L 

③  $1\frac{3}{8}$  L 

3. ア～オのめもりが表す分数はいくつですか。  
 1より大きい分数は、仮分数と帯分数で表しましょう。



ア ( — ) イ ( — ) ウ ( — ) エ ( — ) オ ( — )

1をいくつに分けているかな 帯分数 ( 1 — ) ( — ) ( — )