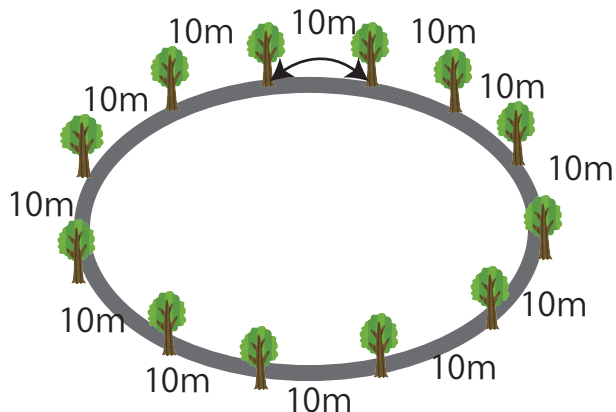


◎ 間の数と木の数を求めましょう。

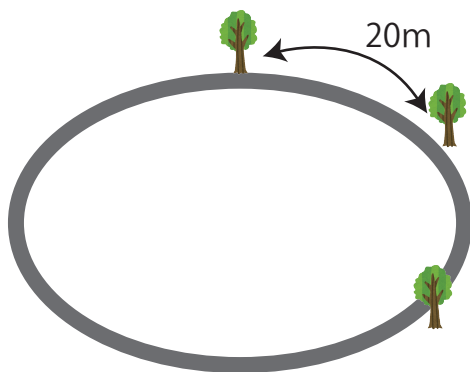
1. 120mの池のまわりに 10m間かくで木を植えます。



間の数は 木の数は

式

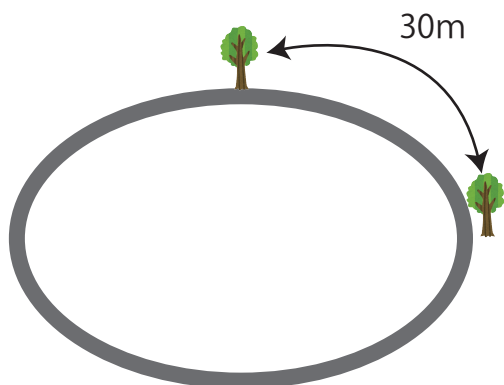
2. 120mの池のまわりに 20m間かくで木を植えます。



間の数は 木の数は

式

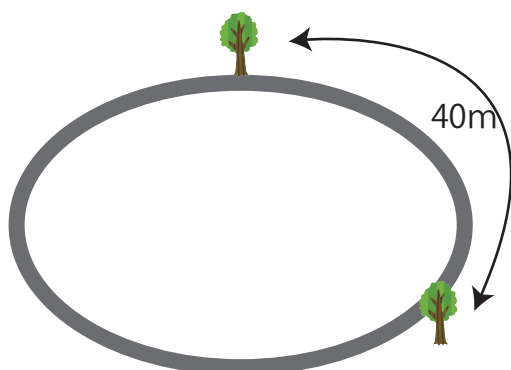
3. 120mの池のまわりに 30m間かくで木を植えます。



間の数は 木の数は

式

4. 120mの池のまわりに 40m間かくで木を植えます。



間の数は 木の数は

式