


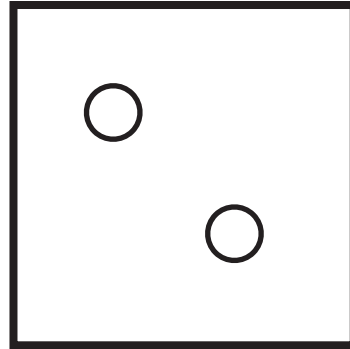

算数 はこの形
厚紙に印刷

さいころであそぼう






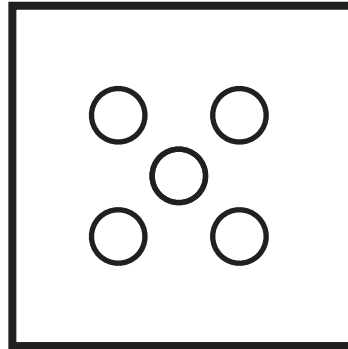

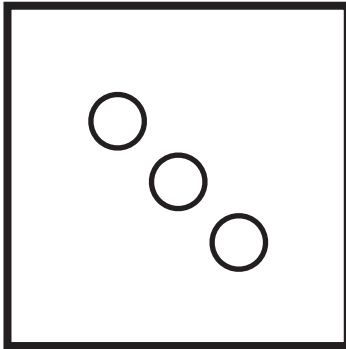
名前 _____



さいころのどの面に
どの数がかいてあるか
さいころをよく見て
くみたてよう。



つくり方
まず 6つの面を
きりとります。
面をセロハンテープで
くっつけて
かんせいです。



遊び方 ①さいころを作ります。②上の 12 まいのカード切り取ります。③サイコロをふり出た数のカードをとります。
④とったカードの数を足して多いほうが勝ち。